





LONGUEUR	Séquence 1	Séance 1
CE1	TRACE ÉCRITE AVEC CONCLUSION	

	Quelle est la bande la plus longue ?
	La bande A mesure La bande B mesure

	Pour mesurer la longueur d'une bande, on peut utiliser plusieurs étalons différents : <ul style="list-style-type: none"> • On commence avec un étalon de grande longueur. • On finit avec un étalon plus court, pour être précis.